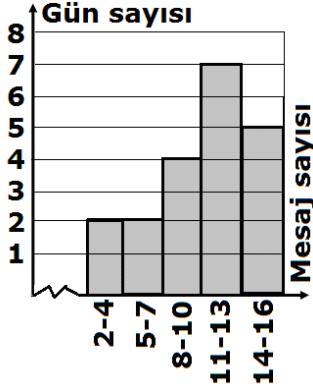


7) Aşağıdaki histogramda Ahmet'in facebookuna 10 gün boyunca gelen günlük toplam mesaj sayıları ve gün sayısı gösterilmiştir.

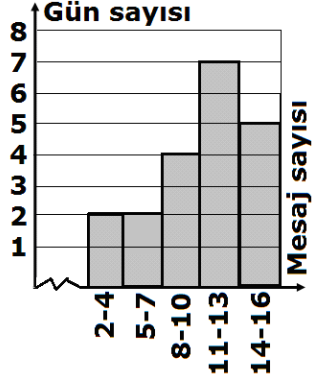
Buna göre, Ahmet'in facebookuna günlük ortalama en az kaç mesaj gelmiştir?



- a)7,21      b)7,46      c)9,65      d)8,25

8) Aşağıdaki histogramda Ahmet'in facebookuna 10 gün boyunca gelen günlük toplam mesaj sayıları ve gün sayısı gösterilmiştir.

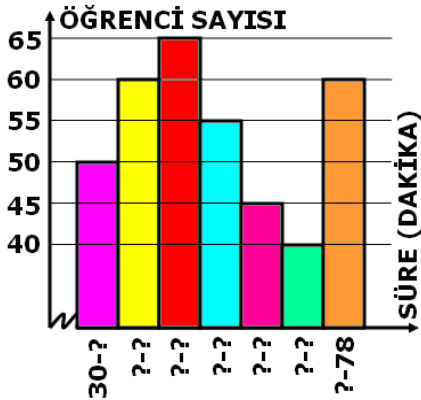
Buna göre, Ahmet'in facebookuna günlük ortalama en fazla kaç mesaj gelmiştir?



- a)11,65      b)12,35      c)10,15      d)13,75

8) Bir Okuldaki öğrencilerin günlük kitap okuma süreleri ile ilgili bazı bilgileri içeren Histogram aşağıda verilmiştir.

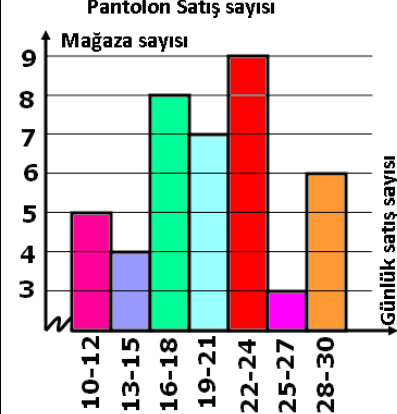
#### ÖĞRENCİLERİN GÜNLÜK KİTAP OKUMA SÜRELERİ



Histogram tablosunda verilen bilgilere göre, Bu verilerin grup genişliği kaçtır?

- a)7      b)6      c)5      d)8

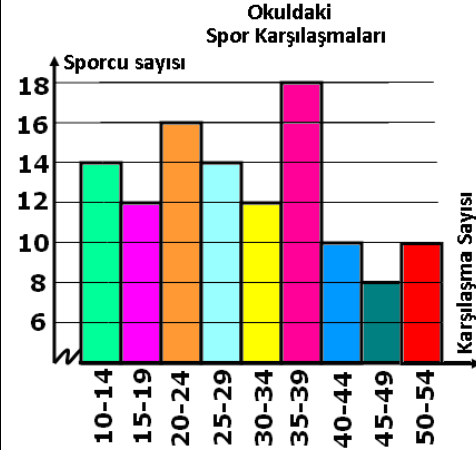
9) Aşağıdaki histogramda bir alışveriş merkezindeki giyim mağazalarının günlük pantolon satış adetleri verilmiştir.



Histogram tablosunda verilen bilgilere göre, Bu veri grubunun grup genişliği kaçtır?

- a)2      b)3      c)4      d)6

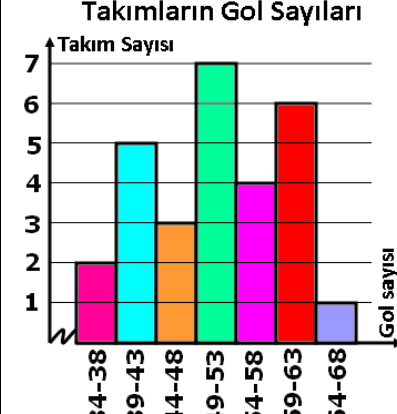
10) Aşağıdaki histogramda bir okuldaki sporcuların yaptıkları spor karşılaşma sayıları verilmiştir.



Histogram tablosunda verilen bilgilere göre, Bu histogramın açıklığı en fazla kaçtır?

- a)44      b)45      c)43      d)46

11) Aşağıdaki histogramda takımların bir sezon içerisinde attıkları gol sayıları verilmiştir.



Histogram tablosunda verilen bilgilere göre, Bu veri grubunun grup genişliği kaçtır?

- a)4      b)5      c)6      d)7